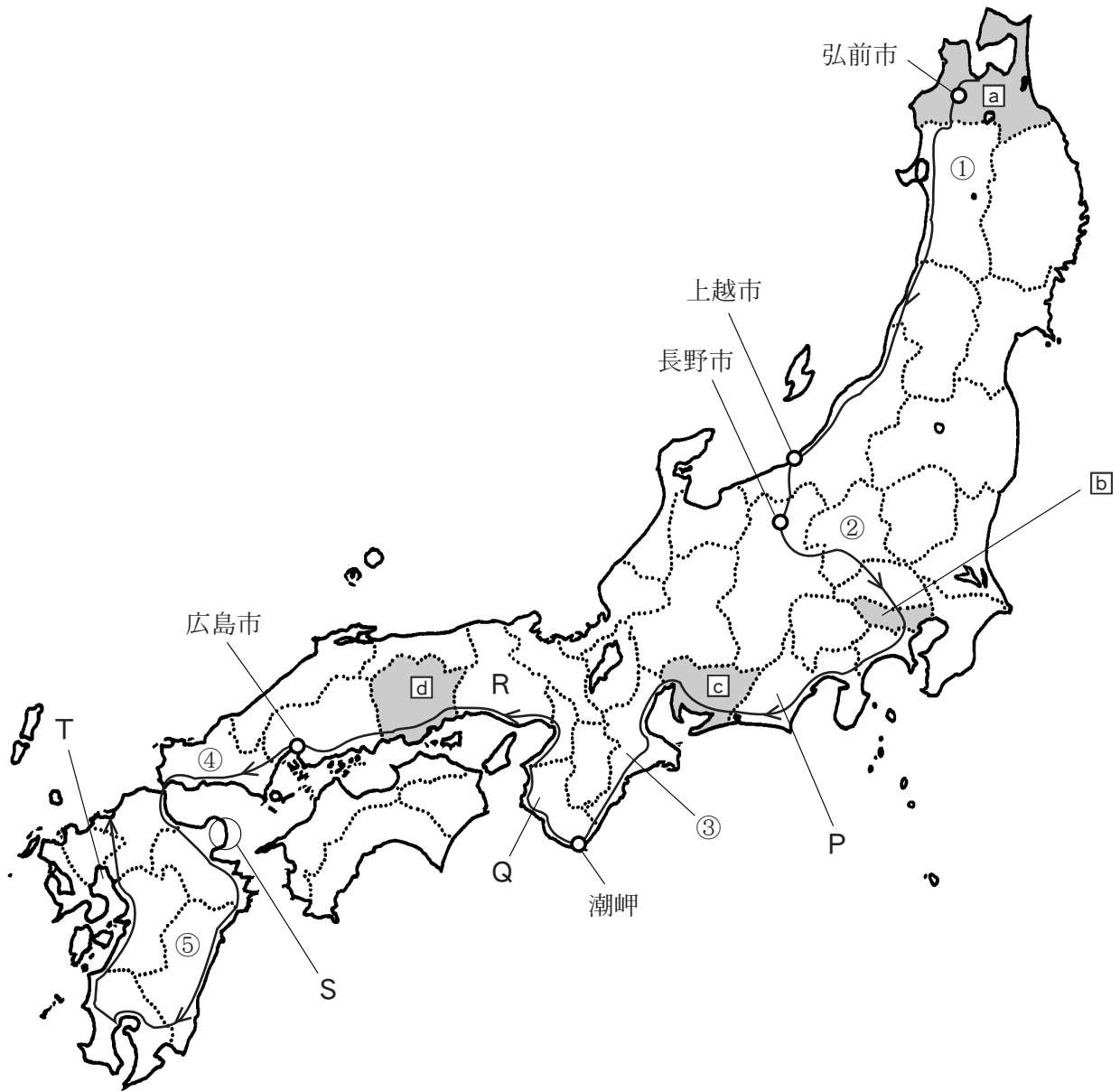
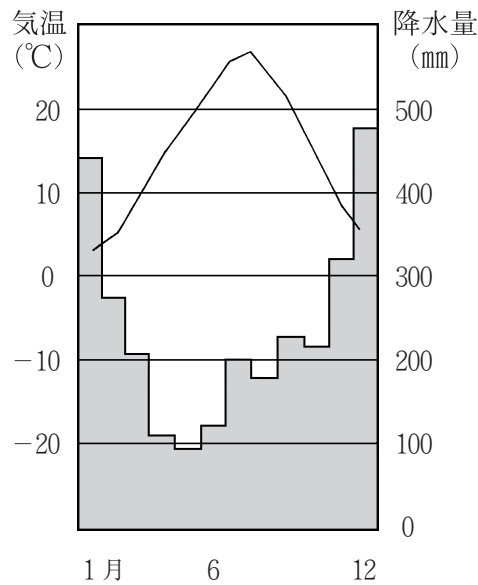




- 1 次の地図は、青森市に住む太郎さんが、福岡市まで家族旅行をした時のルートを示したものである。これについて、あとの(1)～(8)に答えなさい。(16点)



(1) 地図中に示した都市名・地名は、太郎さんが旅行中に訪れた地点である。次のグラフは、どの地点の気候について示したものであるか、適切なものを、下の①～⑤の中から一つ選びなさい。



- ① 弘前市    ② 上越市    ③ 長野市    ④ 潮岬    ⑤ 広島市

(2) 次の表は、地図中に[a]～[d]で示した都県の、製造業の出荷総額と工業生産上位4品目の割合を示したものである。[a]～[d]の都県と表中のあ～えの組み合わせとして適切なものを、下の①～④の中から一つ選びなさい。(資料は2004年)

	出荷総額	上位4品目			
あ	370155億円	輸送用機械 (48.9%)	一般機械 (8.7%)	電気機械 (6.0%)	鉄鋼 (5.3%)
い	114940億円	印刷・出版 (15.7%)	輸送用機械 (12.4%)	情報通信機械 (10.2%)	電子部品 (8.3%)
う	67156億円	石油製品 (15.4%)	輸送用機械 (14.8%)	化学 (14.2%)	鉄鋼 (11.4%)
え	12740億円	食料品 (21.9%)	電子部品 (10.4%)	紙・パルプ (8.7%)	非鉄金属 (7.4%)

- ① [a]ーう, [b]ーあ, [c]ーい, [d]ーえ  
 ② [a]ーう, [b]ーい, [c]ーあ, [d]ーえ  
 ③ [a]ーえ, [b]ーあ, [c]ーい, [d]ーう  
 ④ [a]ーえ, [b]ーい, [c]ーあ, [d]ーう

(3) 次の文は、太郎さんの日記の一部である。地図中①～⑤のどの県を訪れた時のものであるか、適切なものを一つ選びなさい。

「<sup>しいたけ</sup>椎茸めし」という<sup>う</sup>駅弁を食べた。しいたけの栽培がとともさかんなのだそうだ。駅弁には鶏肉が入っていたが、この県では、食肉用にわたりの飼育数が全国1位であるほか、肉牛や豚などの飼育頭数も上位で、畜産がさかんだと聞いた。2010年4月に、<sup>こうていえき</sup>口蹄疫という牛や豚の伝染病が発生し、畜産農家の方はたいへん苦勞されたそうだ。<sup>こうていえき</sup>口蹄疫の発生は、畜産だけにとどまらず、さまざまな農産物の出荷や、観光などにまで影響をおよぼし、損失はととも大きかったようだ。

(4) 地図中のP県の農業について述べた文として適切なものを、次の①～⑤の中から一つ選びなさい。

- ① 石灰岩の<sup>はだ</sup>岩肌がむき出しになっており、農業はあまりさかんではない。
- ② 火山灰が積もった台地がひろがり、サツマイモなどの栽培がさかんである。
- ③ 日あたりのよい斜面がひろがり、茶の栽培がさかんである。
- ④ 水はけのよい砂丘がひろがり、らっきょうなどの栽培がさかんである。
- ⑤ 大きな河川によってつくられた三角州がひろがり、米の生産量日本一をほこる。

(5) 地図中のQ県は、果実の栽培がさかんである。次の表は、Q県で栽培されている主な果実の収穫量について、都道府県別の上位5県を示したものである。表中の㊦にあてはまる果実として適切なものを、下の①～⑤の中から一つ選びなさい。(資料は2004年)

	かき	うめ	㊦	びわ	もも
1位	Q	Q	Q	長崎	山梨
2位	奈良	群馬	愛媛	鹿児島	福島
3位	福岡	奈良	静岡	千葉	長野
4位	岐阜	長野	熊本	Q	Q
5位	福島	山梨	長崎	香川	山形

- ① みかん    ② なし    ③ さくらんぼ    ④ りんご    ⑤ ぶどう

(6) 地図中のR県について述べた文として適切なものを、次の①～⑤の中から一つ選びなさい。

- ① 1995年の大震災で壊滅的な被害を受けたが、災害に強い都市づくりを目指して復旧が進められた。
- ② 日本最大のブナの原生林が世界遺産に登録されたため、原生林を分断する道路の建設計画が中止された。
- ③ 約1300年前に都がつくられ、現在も多くの遺跡や寺院を見ることができる。
- ④ リアス海岸など天然の良港にめぐまれ、漁業や養殖業がさかんである。
- ⑤ 碁盤目状に区画された町や村が見られるが、これは、明治時代に警備と開拓のために移住した人々によってつくられた村がもとになっている。

(7) 地図中のSの地域には空港がある。空港の存在によってもたらされるこの地域の特色について調査をしようとする場合、調査テーマとして最も適切なものを、次の①～⑤の中から一つ選びなさい。

- ① 地元でさかんな林業と紙・パルプ工業の発達について
- ② スキー場を中心としたリゾート開発と観光について
- ③ 自動車の海外への輸出台数の変化について
- ④ 日本有数の水揚げをほこる魚介類の流通について
- ⑤ IC（集積回路）工場の地元経済への影響について

(8) 地図中のTの海域は、遠浅で干満の差が大きく、古くから干拓が行われてきた。この海域の名前として正しいものを、次の①～⑤の中から一つ選びなさい。

- ① 瀬戸内海    ② 有明海    ③ 若狭湾    ④ 石狩湾    ⑤ 博多湾

2 次の地図を見て、あとの(1)～(4)に答えなさい。(11点)



(1) 次の文は、地図中①～⑤のどの都市について述べたものであるか、適切なものを一つ選びなさい。

この都市は、第二次世界大戦後に、東西に分断され対立してきた。その後、東側の民主化運動の高まりによってこの都市を分断していた「壁」も取り除かれ、1990年に統一されてからは、この国の首都となっている。

(2) 地図中のA国について、次のア・イに答えなさい。

ア A国が、かつて植民地としていた地域に含まれる国を、次の①～⑤の中から一つ選びなさい。

- ① インドネシア    ② フィリピン    ③ ベトナム    ④ マレーシア    ⑤ タイ

イ 次の文は、A国の気候について述べたものである。文中の(あ)・(い)に入る語句の組み合わせとして適切なものを、下の①～④の中から一つ選びなさい。

この国は、温帯気候に属する。一年を通して北大西洋海流と偏西風の影響を受けるため、(あ)で、季節による降水量の変化は(い)。

- ① あー温暖、いー大きい    ② あー温暖、いー小さい  
③ あー冷涼、いー大きい    ④ あー冷涼、いー小さい

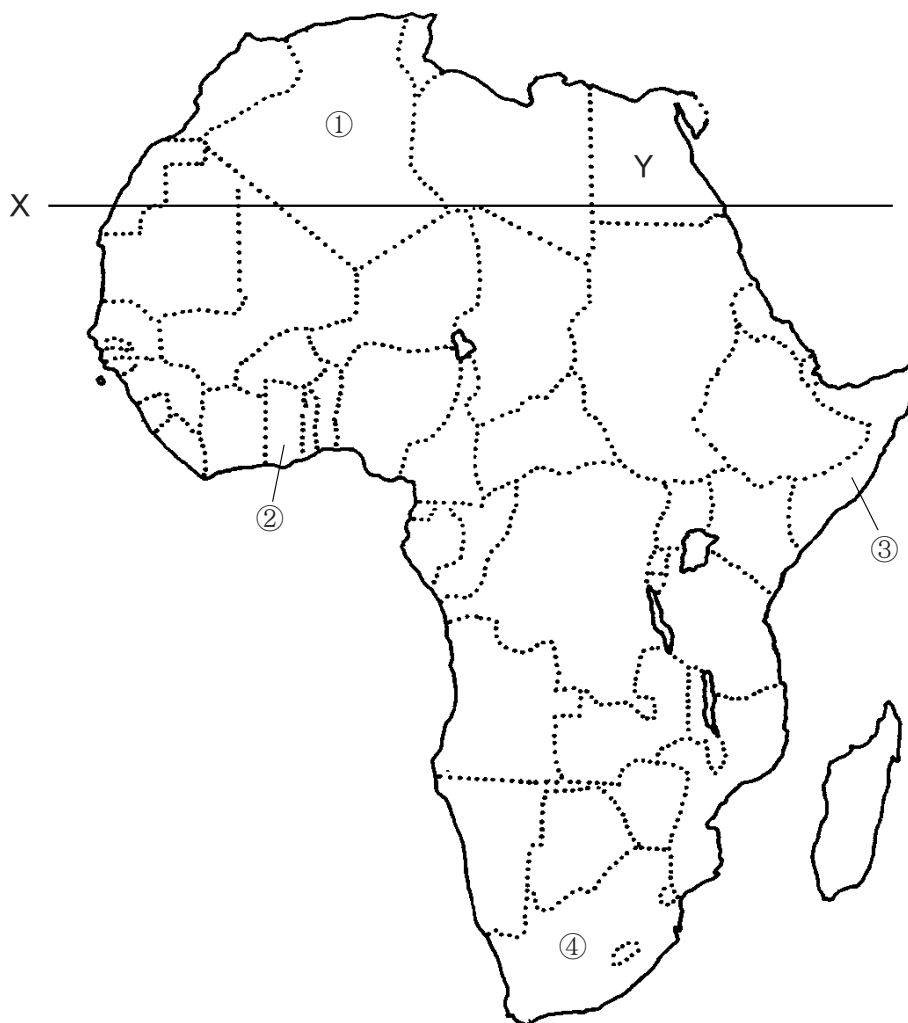
(3) 地図中Bのピレネー山脈は、高く<sup>けわ</sup>て険しい山地が多い「新しい造山帯」に含まれる。この造山帯に含まれる山地は、地球のなり立ちの歴史の中でみると比較的新しく、地震や火山の活動が活発な地域である。次の①～⑤の中から、この「新しい造山帯」に含まれるものを一つ選びなさい。

- ① グレートディバイディング山脈    ② アパラチア山脈    ③ ヒマラヤ山脈  
④ スカンディナヴィア山脈    ⑤ ウラル山脈

(4) 地図中の線Cは、ある農作物の栽培の北限を示しており、その作物は、線Cの南側の地中海沿岸でさかんに栽培されている。この作物として適切なものを、次の①～⑤から一つ選びなさい。

- ① 小麦    ② ブドウ    ③ サトウキビ    ④ 茶    ⑤ オリーブ

3 次の地図を見て、あとの(1)～(3)に答えなさい。(8点)



(1) 次の文は、地図中①～④のどの国について述べたものであるか、適切なものを一つ選びなさい。

この国は、1957年に、イギリスから独立した。国内には、いくつもの民族が暮らしているが、公用語として、英語が用いられている。熱帯気候に属し、特に、右の写真の農作物は、隣国コートジボワールとともに、世界有数の生産量をほこる。また、鉱産資源にもめぐまれ、金は、写真の農作物とともに、この国の重要な輸出品となっている。かつて、多くの人々が、アメリカなどへ奴隷として連れていかれたという、悲しい歴史も持つ。



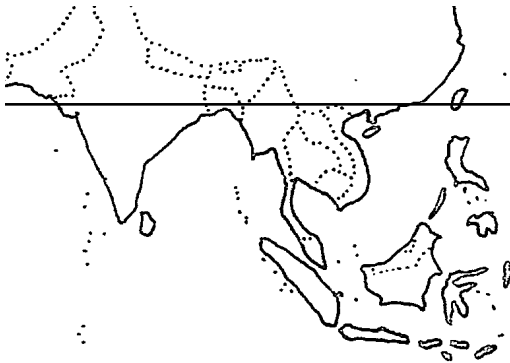
(2) 地図中のXは、北回帰線を示している。これについて、次のア・イに答えなさい。

ア 北回帰線の付近に広がっているアフリカ最大の砂漠を、次の①～⑤の中から一つ選びなさい。

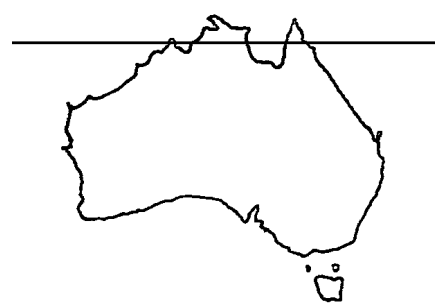
- ① サハラ砂漠    ② ゴビ砂漠    ③ アタカマ砂漠    ④ グレートサンディー砂漠  
⑤ ナミブ砂漠

イ 次の①～④の地図の中で、それぞれに描かれている緯線が回帰線を示しているものを一つ選びなさい。ただし、①～④の地図の縮尺は、同じではありません。

①



②



③



④



(3) 地図中Y国で発生している問題として適切なものを、次の①～⑤から一つ選びなさい。

- ① 輸出を目的としたエビの養殖場がたくさんつくられた結果、海岸沿いのマングローブ林が失われた。  
② 工業化を進めたために、酸性雨が発生し、森林や湖の生物に影響をおよぼした。  
③ ダムの水を利用してかんがい農業をおこなった結果、農地の表面に塩が浮き出す塩害が発生した。  
④ 地球温暖化が進んだことにより、氷河がいちじるしく縮小した。  
⑤ 焼き畑の増加により熱帯林が失われ、生態系や住民生活に影響をおよぼした。

4 次の文を読み、あとの(1)～(7)に答えなさい。(19点)

富本銭は、㉔天武天皇のときにつくられたとされる、現在確認できる日本で最古の貨幣です。㉓奈良時代には、中国にならって別な貨幣がつけられました。しかし、平安時代のなかばから日本で貨幣はつくられなくなり、㉕中国から輸入した貨幣が使用され続けました。

再び日本で貨幣がつけられたのは、豊臣秀吉のときで、㉖江戸時代には、幕府が大量の貨幣をつくり、全国に通用させました。

明治時代になると、政府は㉗殖産興業を進めるなか、1871年に、円・銭・厘を単位とする統一的な貨幣制度をしき、国家の近代化につとめました。しかし、㉘第一次世界大戦後の1929年に㉙世界恐慌がおこると、日本は不況に苦しみました。

(1) 下線部㉔について、天武天皇は、天皇の位<sup>くらゐ</sup>をめぐる戦いに勝利して即位しました。その戦いを、次の①～⑤の中から一つ選びなさい。

- ① 承久の乱    ② 壬申の乱    ③ 平治の乱    ④ 応仁の乱    ⑤ 保元の乱

(2) 下線部㉓について、この時代につくられた歴史書の組み合わせとして正しいものを、次の①～⑥の中から一つ選びなさい。

- ① 万葉集・古事記    ② 万葉集・方丈記    ③ 万葉集・日本書紀  
④ 古事記・方丈記    ⑤ 古事記・日本書紀    ⑥ 方丈記・日本書紀

(3) 下線部㉕について、日本は、室町時代に勘合貿易で中国から大量の銅銭を輸入しました。この貿易の相手国を、次の①～⑤の中から一つ選びなさい。

- ① 唐    ② 明    ③ 隋    ④ 宋    ⑤ 元

(4) 下線部㉖について述べた文として適切なものを、次の①～④の中から一つ選びなさい。

- ① 幕府は、国ごとに守護を、荘園や公領ごとに地頭を置いた。  
② 土倉や酒屋とよばれる富豪<sup>ふごう</sup>が、幕府の保護を受け、金融業を営んで栄えた。  
③ 幕府は、公事方御定書という裁判の基準となる法律を整備した。  
④ 諸大名が、独自の分国法を定めて、武士や農民の行動を取りしまった。

(5) 下線部㉗に関連して、明治政府が、近代産業を発展させるために群馬県につくった官営模範工場を、漢字で答えなさい。

(6) 下線部㉔について、次のA～Cは、第一次世界大戦後に起こったできごとです。これらの文を古い順に正しく並べたものを、下の①～⑥の中から一つ選びなさい。

- A. 柳条湖での鉄道爆破事件をきっかけに、満州事変がおこる。
- B. 盧溝橋で起こった日中両軍の武力衝突により、日中戦争がおこる。
- C. 日本が真珠湾を奇襲し、太平洋戦争が始まる。

- ① A→B→C      ② A→C→B      ③ B→A→C      ④ B→C→A
- ⑤ C→A→B      ⑥ C→B→A

(7) 下線部㉕について、世界恐慌に対応するためにブロック経済を実施した国を、次の①～⑤の中から一つ選びなさい。

- ① イタリア      ② ドイツ      ③ イギリス      ④ アメリカ      ⑤ ソ連

5 次の津軽・弘前に関する年表を見て、あとの(1)～(6)に答えなさい。(16点)

- 655年 朝廷が、津軽の<sup>えみし</sup>蝦夷に位階を与えた  
1590年 大浦<sup>ためのぶ</sup>為信が<sup>①</sup>豊臣秀吉から津軽の支配権を認められ、津軽氏を名乗る  
1603年 江戸幕府が成立し、<sup>②</sup>津軽氏は弘前藩の藩主として津軽地域を支配する  
1624年 弘前藩が、新たに<sup>③</sup>港町として青森をつくる  
1802年 <sup>④</sup>全国を実際に測量し日本地図をつくった人物が、弘前を訪れる  
1871年 <sup>⑤</sup>弘前藩が弘前県とされる  
(のちに弘前県にかわり青森県がおかれる)

(1) 下線部<sup>①</sup>について述べた文として適切なものを、次の①～④の中から一つ選びなさい。

- ① <sup>とさみなと</sup>十三湊を根拠地とする琉球王国を建国し、外国との貿易をおこなって栄えた。  
② ハングルという文字を使用するなど、独自の文化をつくりあげた。  
③ 指導者のアテルイを中心に、朝廷の支配にはげしく抵抗した。  
④ 朝鮮半島や中国沿岸をおそう海賊行為をはたらき、倭寇とよばれた。

(2) 下線部<sup>②</sup>について述べた文として適切なものを、次の①～⑤の中から一つ選びなさい。

- ① 桶狭間の戦いで今川義元をたおした。  
② 5層の天守閣をもつ安土城を築いた。  
③ 征夷大將軍に任命され、幕府を開いた。  
④ 農民や寺から、刀・弓・やり・鉄砲などの武器をとりあげた。  
⑤ 全国の大名に、1年おきに領地と江戸を往復することを命じた。

(3) 下線部<sup>③</sup>について、津軽氏は、関ヶ原の戦いの後で徳川家に従った大名である。江戸時代、このような大名は何とよばれたか、次の①～⑤の中から一つ選びなさい。

- ① 旗本    ② 親藩    ③ 外様大名    ④ 譜代大名    ⑤ 守護大名

(4) 下線部<sup>④</sup>について、江戸時代、青森は東廻り航路の重要な港町のひとつであった。東廻り航路について述べた文として適切なものを、次の①～④の中から一つ選びなさい。

- ① この航路により、東北の米が輸送された。  
② この航路により、荷物は長崎に輸送された。  
③ この航路では、<sup>ひがきかいせん</sup>菱垣廻船や<sup>たるかいせん</sup>樽廻船などの定期船が<sup>かつやく</sup>活躍した。  
④ この航路では、船は瀬戸内海を<sup>④</sup>通って荷物を輸送した。

(5) 下線部<sup>⑤</sup>の人物を、次の①～⑤の中から一つ選びなさい。

- ① 杉田玄白    ② 滝沢馬琴    ③ 松尾芭蕉    ④ 伊能忠敬    ⑤ 歌川(安藤)広重

(6) 下線部<sup>⑥</sup>のできごとは、明治新政府のある政策によって行われた。その政策を何というか、漢字4字で答えなさい。

6 次の文を読んで、あとの(1)～(4)に答えなさい。(8点)

㉔日本国憲法は、三大原則の一つとして、基本的人権の尊重をかかげている。基本的人権には、㉕自由権、平等権、㉖社会権、基本的人権を守るための権利があり、これらの人権を尊重することは、私たちが互いに人間らしく生きるために欠くことができないものである。また、私たちは、これらの権利をもつとともに、㉗国民としての義務も果たしていかなければならない。

(1) 下線部㉔について、日本国憲法の内容として適切でないものを、次の①～⑤の中から一つ選びなさい。

- ① 象徴天皇制      ② 国民主権      ③ 交戦権の否認      ④ 議院内閣制  
⑤ 帝国主義

(2) 下線部㉕について述べた文として適切なものを、次の①～④の中から一つ選びなさい。

- ① 日本国憲法において、自由権は「臣民の権利」とされ、法律によって制限される。  
② 環境権は、自由権として、日本国憲法に明記されている。  
③ 自由権は、ドイツのワイマール憲法で初めて国民に保障された。  
④ 居住や移転の自由は、自由権のうちの経済活動の自由に含まれるとされる。

(3) 下線部㉖として適切でないものを、次の①～⑤の中から一つ選びなさい。

- ① 財産権      ② 生存権      ③ 団結権      ④ 教育を受ける権利  
⑤ 団体行動権

(4) 下線部㉗に関連して、次の文中の(      )に入る適切な語句を漢字で答えなさい。

日本国憲法における国民の三大義務は、(      )の義務、勤労の義務、普通教育を受けさせる義務である。

7 下の文を読んで、あとの(1)～(5)に答えなさい。(10点)

1920年、第一次世界大戦の反省をふまえて、㉔国際連盟が設立された。しかし、国際連盟は、第二次世界大戦を防ぐことができなかった。そこで、ふたたび㉕戦争の悲劇がおこらないように、1945年、国際連合が組織された。国際連合は、総会、㉖安全保障理事会、経済社会理事会などのおもな機関のほか、㉗ユネスコなどのさまざまな機関からなっている。㉘地域紛争が大きな問題となっている現在、国連平和維持活動(PKO)など、世界平和における国際連合の役割は、ますます重要になっている。

(1) 下線部㉔に関連して、この組織の設立を提唱した人物を、次の①～⑤の中から一つ選びなさい。

- ① ウィルソン    ② レーニン    ③ リンカーン    ④ ガンディー    ⑤ ルソー

(2) 下線部㉕に関連して、2000年代に起こった戦争を、次の①～⑤の中から一つ選びなさい。

- ① ベトナム戦争    ② 湾岸戦争    ③ 朝鮮戦争    ④ イラク戦争  
⑤ 第4次中東戦争

(3) 下線部㉖に関連して、安全保障理事会の常任理事国でない国を、次の①～⑥の中から一つ選びなさい。

- ① アメリカ    ② ロシア    ③ 中国    ④ ドイツ    ⑤ フランス    ⑥ イギリス

(4) 下線部㉗について述べた文として適切なものを、次の①～④の中から一つ選びなさい。

- ① 「すべての人に健康を」を目標とし、おもに発展途上国で、医療・衛生への取り組みをしている。  
② 難民の地位に関する条約にもとづいて、難民を保護する活動をしている。  
③ 文化の面から世界平和をめざすことを目的に、世界遺産の決定などの活動をしている。  
④ 世界の様々な地域で、子どもの心身の健やかな成長を守るために活動している。

(5) 下線部㉘に関連して、地域紛争は、ソ連を中心とした東側陣営と、アメリカを中心とした西側陣営の対立が終結してから多発するようになった。第二次世界大戦後から続いたこの東西の対立を何というか答えなさい。

8 次の文を読んで、あとの(1)～(5)に答えなさい。(12点)

1980年代の後半から⑧1990年代の初頭にかけて、日本経済は( A )経済とよばれる事態になりました。技術革新のための設備投資が積極的に行われる一方で、銀行や⑨企業の保有する大量の資金が、株や( B )の購入にまわり、それらの⑩価格が、まるで泡がふくらむように上昇していきました。特に、( B )の売買を強引に行う「地上げ」は、社会問題となりました。その後( A )経済が崩壊すると、日本経済は一転して⑪不況におちいりました。

(1) 文中の( A )・( B )に入る適切な語句を答えなさい。

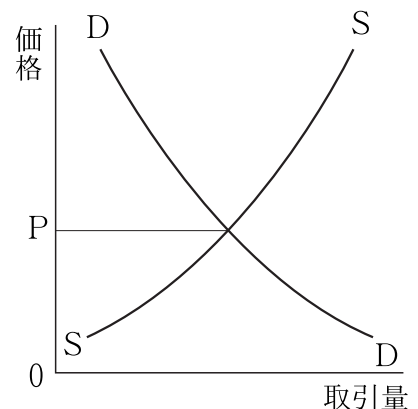
(2) 下線部⑫の時期、為替相場が急速に変化し、1ドル=79円台の円高を記録した。この状況を説明する文として正しいものを、次の①～④の中から一つ選びなさい。

- ① 日本にとっては、輸出と輸入の両方に有利である。
- ② 日本にとっては、輸出と輸入の両方に不利である。
- ③ 日本にとっては、輸出に有利であり、輸入に不利である。
- ④ 日本にとっては、輸出に不利であり、輸入に有利である。

(3) 下線部⑬に関連して、公正かつ自由な競争をうながすことで企業による市場の独占を避け、消費者の利益を守る法律を何というか、漢字で答えなさい。

(4) 下線部⑭に関連して、右のグラフについての説明として正しいものを、次の①～④の中から一つ選びなさい。

- ① D線は需要曲線、S線は供給曲線、Pは均衡価格をあらわしている。
- ② D線は供給曲線、S線は需要曲線、Pは独占価格をあらわしている。
- ③ D線は供給曲線、S線は需要曲線、Pは均衡価格をあらわしている。
- ④ D線は需要曲線、S線は供給曲線、Pは独占価格をあらわしている。



(5) 下線部⑮に関連して、不況時に、消費が低迷して、物価が下落する状態を何というか、カタカナで答えなさい。