

- 1 次の地図の矢印は、まさお君が旅行した^{こうてい}行程を示している。まさお君は、青森空港から飛行機でソウルへ移動し、その後、矢印のように各国の首都で飛行機を乗りつぎ、ローマへと移動した。この地図を見て、あとの(1)～(6)に答えなさい。(12点)



(1) 次の文Aは地図中ア～ウの、Bは地図中エ～力のいずれかの都市周辺の様子を示したものである。文と都市の組み合わせとして適切なものを、下の①～⑨の中から一つ選びなさい。

A 米の輸出量は世界第1位であり、チャオプラヤ川の下流域では、雨季の増水にあわせて数mにも成長する稲が栽培されている。しかし、国の輸出全体で見ると、70%以上が工業製品となっており、輸出に占める米の割合は低下している。

B ナイル川にアスワンハイダムが建設され、飲料水や農業・工業用水がたくさん利用できるようになった。ナイル川沿いでは、世界遺産に登録されている遺跡を見ることができる。

- ① A－ア、 B－エ ② A－ア、 B－オ ③ A－ア、 B－力
④ A－イ、 B－エ ⑤ A－イ、 B－オ ⑥ A－イ、 B－力
⑦ A－ウ、 B－エ ⑧ A－ウ、 B－オ ⑨ A－ウ、 B－力

(2) 日本がローマをふくむヨーロッパ諸国と貿易する場合には、為替相場についても考える必要がある。為替相場とは、通貨の交換比率のことであるが、1ユーロ＝150円であったものが、1ユーロ＝120円となった場合のあらし方として適切なものを、次の①～④の中から一つ選びなさい。

- ① 円高、ユーロ高 ② 円高、ユーロ安 ③ 円安、ユーロ高 ④ 円安、ユーロ安

(3) 地図中のP国について述べた文として適切なものを、次の①～⑤の中から一つ選びなさい。

- ① この国の面積は日本よりせまいが、人口は日本よりも多い。
② この国は、穀物の栽培や酪農などがさかんであるが、その多くが国内で消費され、農産物は、ほとんど輸出されていない。
③ 工業は、あまり発達しておらず、航空機や自動車・電気製品などのほとんどを輸入にたよっている。
④ この国の言葉は、かつて植民地としていたアフリカ大陸の一部の国でも使用され、公用語となっている国もある。
⑤ この国には、世界中から多くの人々が訪れているが、そのほとんどが仕事を求めてやってくる外国人労働者である。

(4) 地図中Qのエチオピアは、コーヒー豆の原産地として知られている。次の表①～⑤は、コーヒー豆・カカオ豆・茶・大豆・オレンジ類の、生産量の上位4ヵ国を示したものである。コーヒー豆を示したものを、①～⑤の中から一つ選びなさい。(2006年の統計)

順位	①	②	③	④	⑤
1位	コートジボワール	ブラジル	ブラジル	中国	アメリカ合衆国
2位	ガーナ	中国	ベトナム	インド	ブラジル
3位	インドネシア	アメリカ合衆国	コロンビア	スリランカ	アルゼンチン
4位	ナイジェリア	スペイン	インドネシア	ケニア	中国

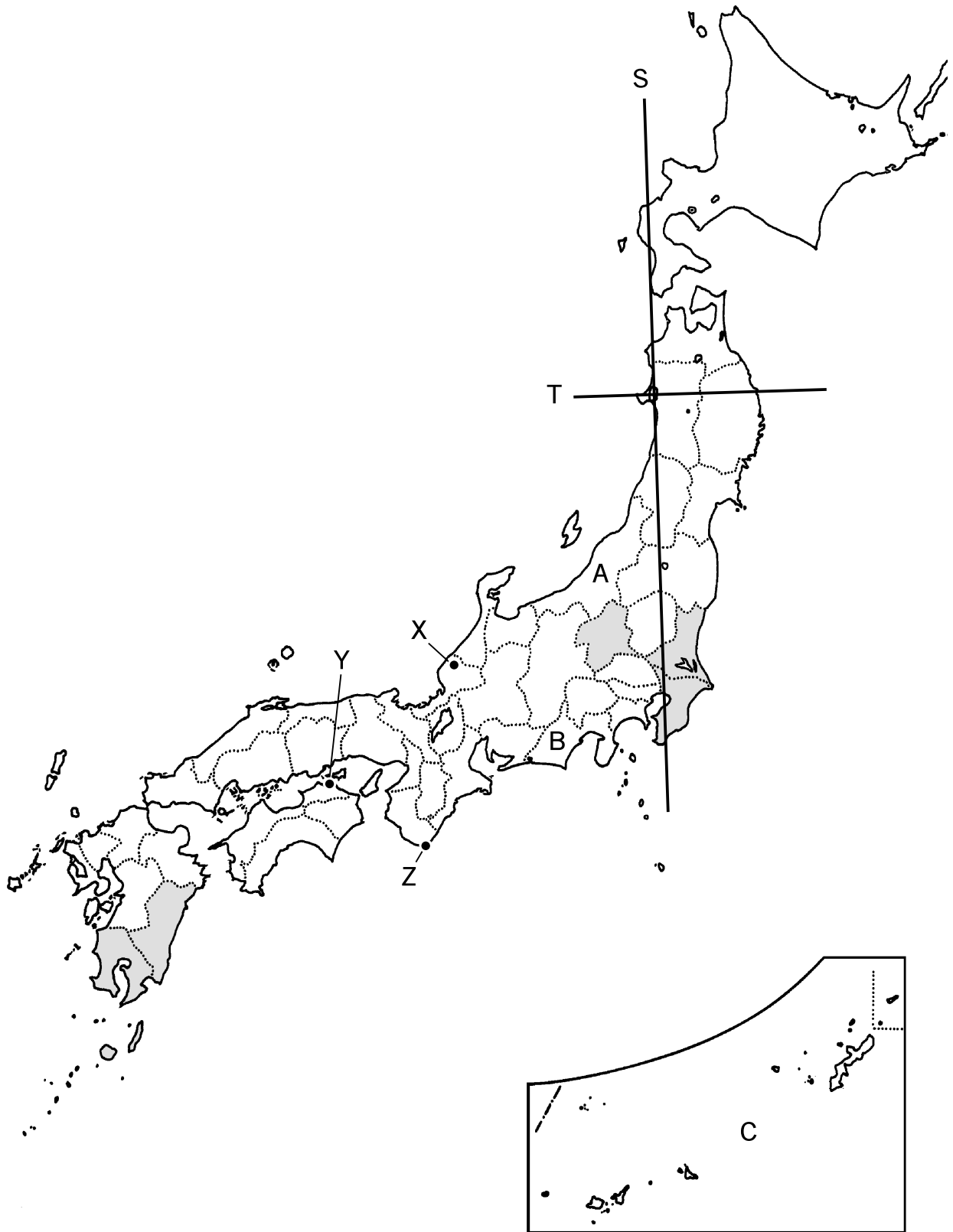
(5) 地図中のR国について述べた文として適切なものを、次の①～④の中から一つ選びなさい。


- ① ユダヤ教を信仰するユダヤ人と、イスラム教を信仰するアラブ人との間で戦争がおこった。
- ② ヨーロッパ系の人々が、アフリカ系の人々を差別する政策がとられていた。
- ③ 第2次世界大戦の終戦後、ひとつの民族でありながら、2つの国家に分断された。
- ④ 人口の増加をおさえるために「一人っ子政策」をとったが、少数民族に対しては、この政策を強制していない。

(6) ヨーロッパは、沿岸を暖流が流れるため、同じ緯度の大陸東岸にくらべて、特に冬の気温が高い。この暖流として適切なものを、次の①～⑤の中から一つ選びなさい。

- ① メキシコ湾流 ② 北大西洋海流 ③ ラブラドル海流 ④ 北赤道海流
- ⑤ ペルー海流

2 次の地図を見て、あとの(1)～(6)に答えなさい。(13点)



(1) 地図中の  は、ある家畜の飼育頭数について上位5県を示したものである。また、次の各国は、世界におけるその家畜の飼育頭数上位5ヵ国を示したものである。この家畜として適切なものを、下の①～⑤の中から一つ選びなさい。(2006年の統計)

1位 中国 (51.6%)、2位 アメリカ (6.2%)、3位 ブラジル (3.4%)、
4位 ベトナム (2.7%)、5位 ドイツ (2.7%)

① 豚 ② 羊 ③ 馬 ④ 乳用牛 ⑤ 肉用牛

(2) 日本には、各地に特色ある地場産業がみられる。地場産業は、伝統工芸に加えて、明治・大正時代にその地域に持ち込まれ発展した工業をも含む。地図中A県のつばめ市や三条市にみられる地場産業で、その生産が全国の80%以上を占めるものを、次の①～⑤の中から一つ選びなさい。

① きんぼく金箔工芸 ② 黒砂糖 ③ 金属洋食器 ④ 陶器 ⑤ タオル

(3) 次の文①～⑤は、地図中Bの静岡県について述べたものである。下線部が適切でないものを一つ選びなさい。

- ① 富士市では、豊かな水資源を利用して、紙・パルプ工業がさかんである。
- ② 静岡市で発掘された登呂遺跡は、弥生時代の遺跡で、米などを蓄えた高床式の倉庫がつくられていたと考えられている。
- ③ 浜名湖の周辺ではうなぎの養殖がさかんで、その生産量(収穫量)は全国でも上位である。
- ④ 観光資源に恵まれる静岡県には、富士山や、温泉で有名な三浦半島などに、多くの観光客がおとずれている。
- ⑤ 牧ノ原台地では、温暖な気候をいかして、お茶の栽培がさかんである。

(4) 地図中のC県について述べた文として適切でないものを、次の①～⑤の中から一つ選びなさい。

- ① 琉球王国時代につくられた首里城が、復元されている。
- ② 第二次世界大戦の末期には、激しい戦闘が行われ、多くの犠牲者が出た。
- ③ 現在、沖縄には、日本にあるアメリカ軍基地の多くが集中している。
- ④ 気温が高く、亜熱帯の植物が茂り、周囲の海にはさんごしょうが広がっている。
- ⑤ 水はけのよい土地が多く、農業の中心は、稲作である。

(5) 地図中Sの示す経度とTの示す緯度の組み合わせとして適切なものを、次の①～⑥の中から一つ選びなさい。

- ① S－東経135度, T－北緯35度 ② S－東経135度, T－北緯40度
 ③ S－東経135度, T－北緯45度 ④ S－東経140度, T－北緯35度
 ⑤ S－東経140度, T－北緯40度 ⑥ S－東経140度, T－北緯45度

(6) 次の表は、地図中X～Zの気温と降水量のようすを示したものである。X～Zと表中のア～ウの組み合わせとして適切なものを、下の①～⑥の中から一つ選びなさい。

	気 温 (°C)			降 水 量 (mm)		
	1月	8月	年平均	1月	8月	全年
ア	7.9	26.5	17.0	98.7	240.3	2534.2
イ	3.1	26.8	14.3	279.8	135.9	2257.9
ウ	5.3	27.4	15.8	39.5	92.3	1123.6

- ① X－ア, Y－イ, Z－ウ ② X－ア, Y－ウ, Z－イ
 ③ X－イ, Y－ア, Z－ウ ④ X－イ, Y－ウ, Z－ア
 ⑤ X－ウ, Y－ア, Z－イ ⑥ X－ウ, Y－イ, Z－ア

3 次の新聞記事を読んで、あとの(1)～(5)に答えなさい。(10点)

三浦雄一郎さん5人目の青森市名誉市民に (2008年11月の記事)

今年5月、75歳で2度目のエヴェレスト(8848m)登頂に成功した^⑤青森市出身のプロスキーヤー三浦雄一郎さんに、11月3日、青森市から名誉市民の称号が贈られました。2度にわたるエヴェレスト登頂のほか、^⑥世界7大陸の最高峰や氷河をスキーで滑り降りた功績によるものです。

三浦さんは、授与式で「じょっぱり精神ともつけ精神で世界にチャレンジし続けてきました。青森に生まれて良かった」と語りました。また、「80歳でもう1度エヴェレストに登りたい」と今後の夢を語りました。

これで、青森市の名誉市民は、版画家の棟方志功さん、歌手の淡谷のり子さんら5人となりました。

「リュウグウノツカイ」1日限りの公開 (2009年2月の記事)

2月15日、浅虫水族館で冷凍保存されていたリュウグウノツカイが、1日だけ公開されました。公開されたリュウグウノツカイは、体長3.94m、重さ19.5kgで、1月22日に水族館近くの陸奥湾内で海面を泳いでいたところを、ダイバーによって捕獲されたものです。海面を泳いでいるのが発見されるのは、珍しいということです。

リュウグウノツカイは、通常、温帯から^⑦熱帯の深海に生息していますが、昨年末から、^⑧島根県や^⑨福井県など、日本海側で捕獲されています。県内では昨年12月24日に、外ヶ浜町の漁港に打ち上げられていたのが見つかっています。

水族館には、開館時間前から見物客が訪れ、子どもたちは、ふだんは図鑑でしか見ることができない珍しい魚を見て、大よろこびのようすでした。

(1) 文中の下線部^⑩について、青森市にある三内丸山遺跡は、縄文時代の集落の跡として日本最大級のものである。縄文時代に作られたものを、次の①～④の中から一つ選びなさい。

①



②



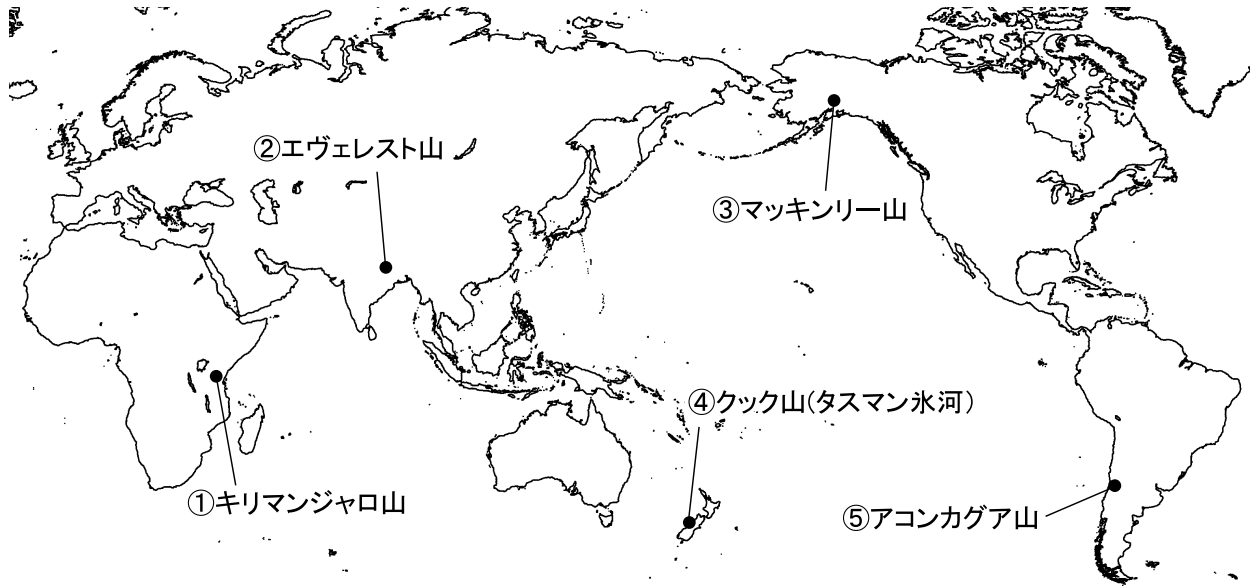
③



④



(2) 文中の下線部㉔について、次の地図に示した山・氷河は、三浦雄一郎さんがスキーで滑り降りた場所の一部を示したものである。環太平洋造山帯にもアルプス・ヒマラヤ造山帯にも含まれないものを、①～⑤の中から一つ選びなさい。



(3) 文中の下線部㉕について、ドイツのケッペン^{ケッペン}は、植生（ある区域に集まって生育している植物の全体のような）に注目して、気候を区分した。熱帯の植生について示した文として適切なものを、次の①～⑤の中から一つ選びなさい。

- ① 夏になると地表が湿地のようになり、コケ類などが育つ。
- ② 木も草も育つことができず、大地がむき出しになっている。
- ③ タイガとよばれる、針葉樹の森林が広がる。
- ④ 樹木はほとんど育たず、丈の短い草でおおわれた草原が広がる。
- ⑤ 一年中雨の降る地域では密林が広がり、沿岸部にはマングローブ林も見られる。

(4) 文中の下線部㉖について、島根県の石見銀山^{いわみ}は世界遺産に登録されている。次の①～⑤の中から、世界遺産に登録されていないものを一つ選びなさい。

- ① 中尊寺（岩手県） ② 白川郷の合掌造り集落^{がっしょう}（岐阜県） ③ 姫路城（兵庫県）
- ④ 法隆寺（奈良県） ⑤ 厳島神社^{いつくしま}（広島県）

(5) 文中の下線部㉗について、福井県には、原子力発電所が多く見られる。同じように原子力発電所が多く見られる都府県の組み合わせとして適切なものを、次の①～④の中から一つ選びなさい。

- ① 福島県・新潟県 ② 千葉県・東京都 ③ 群馬県・長野県
- ④ 大阪府・和歌山県

4 次の資料a～fをみて、あとの(1)～(6)に答えなさい。(18点)

a



b



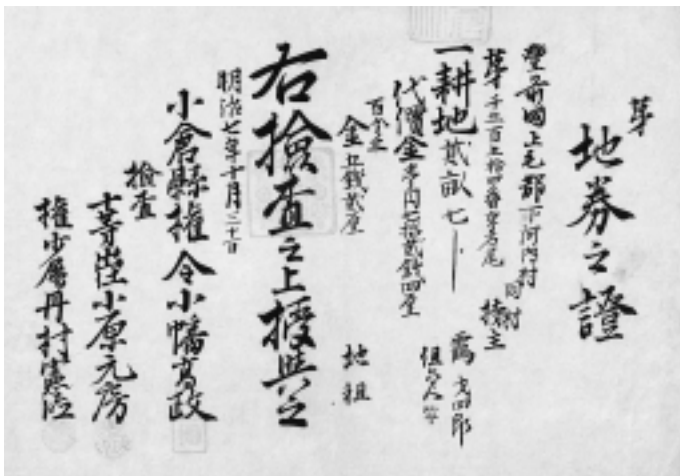
c



d



e



f



(1) 資料 a は、古代の戸籍である。これに関連して、次のア・イに答えなさい。

ア 古代の日本は、唐にならって、法律にもとづいた政治を行った。このような国家を何というか、漢字で答えなさい。

イ 6歳以上のすべての人びとは、戸籍にもとづいて口分田があたえられ、その面積に応じて税を負担した。この税を何というか、次の①～⑤の中から一つ選びなさい。

- ① 租 ② 庸 ③ 調 ④ 雑徭 ⑤ 防人

(2) 資料 b は、江戸時代に農民が年貢をおさめているようすである。これに関連して、江戸幕府は、安定した年貢の取り立てのために、農民にさまざまな規制を加えた。それは、どのような規制であったか、一つ答えなさい。なお、解答には、〔土地〕または〔米〕のいずれかの語を用いること。

(3) 資料 c は、江戸時代の大阪のようすである。これに関連して、江戸時代に、諸藩が、年貢米や特産物を売りさばくために江戸や大阪に設けたものを、次の①～⑥の中から一つ選びなさい。

- ① 日本町 ② 鹿鳴館 ③ 蔵屋敷 ④ 城下町 ⑤ 関所 ⑥ 出島

(4) 資料 d のワシントンは、アメリカの初代大統領である。彼は、本国による新しい税と弾圧に抗議する植民地の人びとの中心となり、独立戦争を戦った。この本国とはどこか、次の①～⑤の中から一つ選びなさい。

- ① スペイン ② ロシア ③ イギリス ④ オランダ ⑤ フランス

(5) 資料 e の地券は、地租改正のために明治政府によって発行されたものである。地租改正の際に、課税の基準は、それまでの収穫高から何に改められたか答えなさい。

(6) 資料 f には、1904年から1905年にかけて行われた戦争のために、国民の負担が非常に重くなり、苦しんでいるようすが描かれている。この戦争に関連した文として適切なものを、次の①～④の中から一つ選びなさい。

- ① この戦争は、インド産のアヘンの密輸をめぐる、イギリスとの間に起こった。
② 日本は、はじめ勝利を重ねたが、次第にアメリカの反撃が強まり、戦争は長期化した。
③ この戦争中に、日本は、中国に二十一か条の要求を認めさせた。
④ 日本の勝利に刺激を受け、アジア諸国は、近代化や民族独立の動きを強めた。

5 次の文を読んで、あとの(1)～(6)に答えなさい。(17点)

世界で信仰されている②三大宗教のうち、日本に最初に伝わったのは仏教です。6世紀なかばに伝わった仏教は、はじめ国や貴族などの保護を受けて発展しました。③鎌倉時代になると、新しい仏教の教えが民衆にも広まり、仏教は多くの人々に信仰されるようになりました。

④16世紀なかばになると、新しい宗教としてキリスト教が日本に伝わりました。日本に来た宣教師たちが、各地に教会や学校・病院などを建設し、布教や慈善事業をおこなったこともあり、⑤日本でもキリスト教を信仰する人々が増えていきました。しかし、江戸時代になると、⑥幕府は、キリスト教の信仰を禁止し、外国との貿易を制限する鎖国をおこないました。

⑦明治時代になると、文明開化が進められる中でキリスト教の禁止は解かれましたが、一方で、神道を国教にする動きもあり、仏教の排斥運動が起こりました。

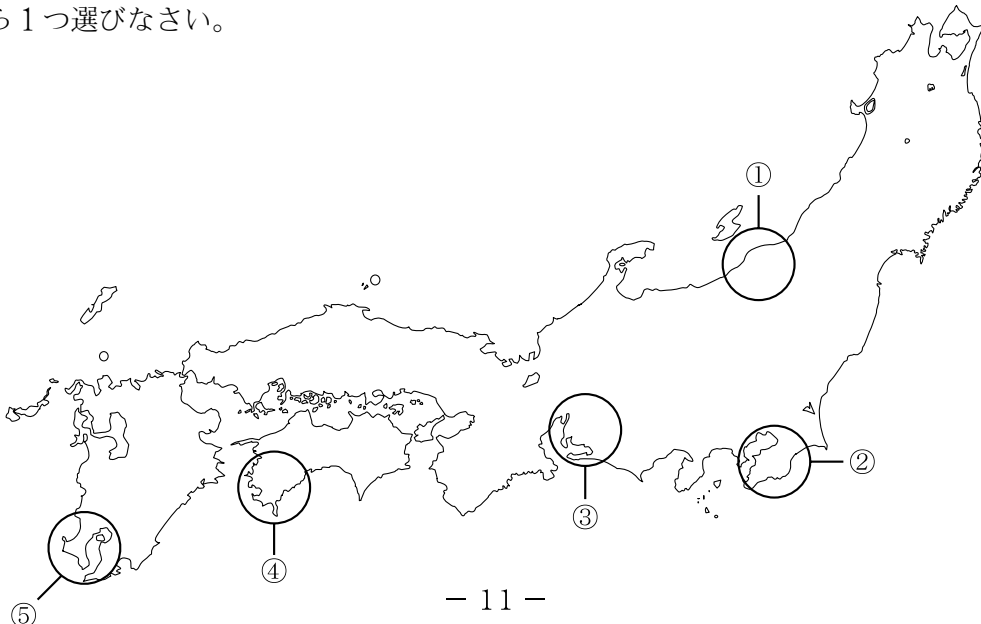
(1) 下線部⑤の1つであるイスラム教について述べた文として正しいものを、次の①～⑤の中から一つ選びなさい。

- ① イスラム教は、インドで誕生した。
- ② イスラム教は、シャカによって広められた。
- ③ イスラム教では、唯一の神アラーを信仰する。
- ④ イスラム教の教えは、『聖書』にまとめられた。
- ⑤ イスラム教では、神殿としてピラミッドがつけられた。

(2) 下線部⑥について、この時代に広まった仏教の教えとそれを説いた人物の組み合わせとして正しいものを、次の①～⑤の中から一つ選びなさい。

- ① 浄土宗－法然 ② 浄土真宗－日蓮 ③ 臨済宗－道元 ④ 曹洞宗－栄西
- ⑤ 真言宗－鑑真

(3) 下線部③について、フランシスコ＝ザビエルが日本で布教した場所を、次の地図中①～⑤の中から1つ選びなさい。



(4) 下線部㉔に関連して、キリスト教を保護した織田信長について述べた文として正しいものを、次の①～④の中から一つ選びなさい。

- ① 足利義昭を京都から追放し、室町幕府をほろぼした。
- ② 4人の少年を、使節としてスペイン国王とローマ教皇のもとへ派遣した。
- ③ 鉄砲を有効に使った戦法により、関ヶ原の戦いで武田氏を破った。
- ④ 田畑の広さや土地のよしあしを調べる検地を、全国でおこなった。

(5) 下線部㉕に関連して、次のA～Cの文を古い順に正しく並べたものを、下の①～⑥の中から一つ選びなさい。

- A. 中国とオランダの船だけに、長崎に限っての貿易を許す。
- B. 徳川家康が、幕領に禁教令（キリスト教禁止令）を出す。
- C. キリスト教徒への迫害や圧政に苦しんだ島原・天草の人々が、一揆をおこす。

- ① A→B→C ② A→C→B ③ B→A→C ④ B→C→A
- ⑤ C→A→B ⑥ C→B→A

(6) 下線部㉖に関連して、1885（明治18）年に内閣制度が創設されたが、このとき初代総理大臣となったのは誰か、漢字で答えなさい。

6 次の文を読んで、あとの(1)～(5)に答えなさい。(15点)

現代において、㉔民主主義の政治は、政党によってになわれている。政党とは、自由や平等など政治的に実現したい理念や政策について同じ考えをもつ人々が集まってつくる政治団体である。

日本では、㉕1955年以来、(A)が政権を担当してきた。しかし、1990年代のはじめ、政治腐敗ふばいなどの批判を受けた(A)が衆議院総選挙で敗北し、(A)以外の政党からなる連立政権が誕生した。

その後、㉖選挙制度の見直しや政治改革がなされ、いろいろな政党が結成と消滅を繰り返してきたが、現在は(A)・(B)の二つの政党が政治の中心となっている。2009年8月に行われた総選挙では、(B)が大勝して政権交代がおこった。このように、㉗日本の政治は大きな転換期をむかえている。

(1) 文中の(A)、(B)には政党名がはいる。適切な政党名をそれぞれ漢字で答えなさい。

(2) 下線部㉔に関連して、民主的な政治制度として三権分立を主張し、『法の精神』あらかわを著した人物を、次の①～⑤の中から一つ選びなさい。

- ① ルソー ② ロック ③ リンカーン ④ マルクス ⑤ モンテスキュー

(3) 下線部㉕に関連して、1950年代の出来事として適切なものを、次の①～⑤の中から一つ選びなさい。

- ① 朝鮮戦争による特需景気
② 税率3%の消費税導入
③ バブル経済の崩壊
④ 原油価格の高騰こうとうによる石油危機の発生
⑤ アジア初となる東京オリンピックかいさいの開催

(4) 下線部㉓に関連して、日本の選挙制度について述べた文として誤りのあるものを、次の①～④の中から一つ選びなさい。

- ① 衆議院では、小選挙区制と比例代表制を組み合わせた小選挙区比例代表並立制を採用している。
- ② 参議院では、都道府県を単位とする選挙区選出議員選挙と、全国を一つの単位とした比例代表選出議員選挙が行われている。
- ③ 都道府県知事の選挙では、被選挙権は35歳以上に認められている。
- ④ 日本における男女平等の普通選挙は、戦後、1946年の総選挙で初めて行われた。

(5) 下線部㉔に関連して、現在の日本の政治について述べた文として誤りのあるものを、次の①～④の中から一つ選びなさい。

- ① 2009年、市民が刑事裁判に参加し、裁判官とともに無罪・有罪や、刑の種類や程度を決める裁判員制度が開始された。
- ② 憲法の改正は、衆議院と参議院の各議院で、総議員の3分の2以上の賛成で発議され、国民投票によって決定される。
- ③ 衆議院で内閣不信任案が可決されると、内閣は、10日以内に衆議院を解散するか、総辞職をしなければならない。
- ④ 予算の議決、条約の承認、内閣総理大臣の指名などについて、衆議院と参議院が異なった議決をした場合、両院協議会を開き、それでも一致しないときは、参議院の議決が国会の議決となる。

7 次の文を読んで、あとの(1)～(5)に答えなさい。(15点)

わたしたちが暮らす社会には、解決すべき多くの問題がある。特に⑥地球環境問題は、人類全体に関わる重要な問題であり、その解決のために⑦国際会議が開かれている。しかし、環境問題の解決には、⑧産業に必要なエネルギーの確保と環境保全の両立という難しい課題が残されている。

さらに、産業社会の発展ともなって人間性が失われることも大きな問題である。⑨さまざまな人々と共に生き、⑩より豊かな人生をおくるためにも、宗教や芸術など、人間の内面にかかわることがらを見直すことを忘れてはならない。

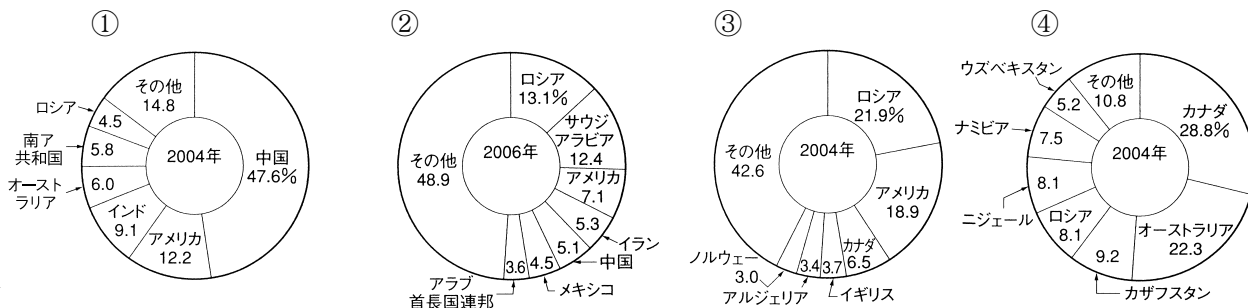
(1) 下線部⑥について述べた文として適切でないものを、次の①～④の中から一つ選びなさい。

- ① 地球環境問題は、その被害が、国境を越えて広範囲に拡大する傾向がある。
- ② 地球環境問題は、ほとんどが干ばつなどの自然的要因によって引き起こされ、経済活動や産業などの人為的要因によって引き起こされることは少ない。
- ③ 地球環境問題の解決には、国際的な協力が必要であり、人類全体の立場から長期的に取り組むことが大切である。
- ④ 地球環境問題は、被害が長期間におよぶため、今の世代だけでなく、次の世代の人々にも大きな影響を与えると考えられる。

(2) 下線部⑦に関連して、1997年の地球温暖化防止京都会議で採択された京都議定書の説明として誤りのあるものを、次の①～④の中から一つ選びなさい。

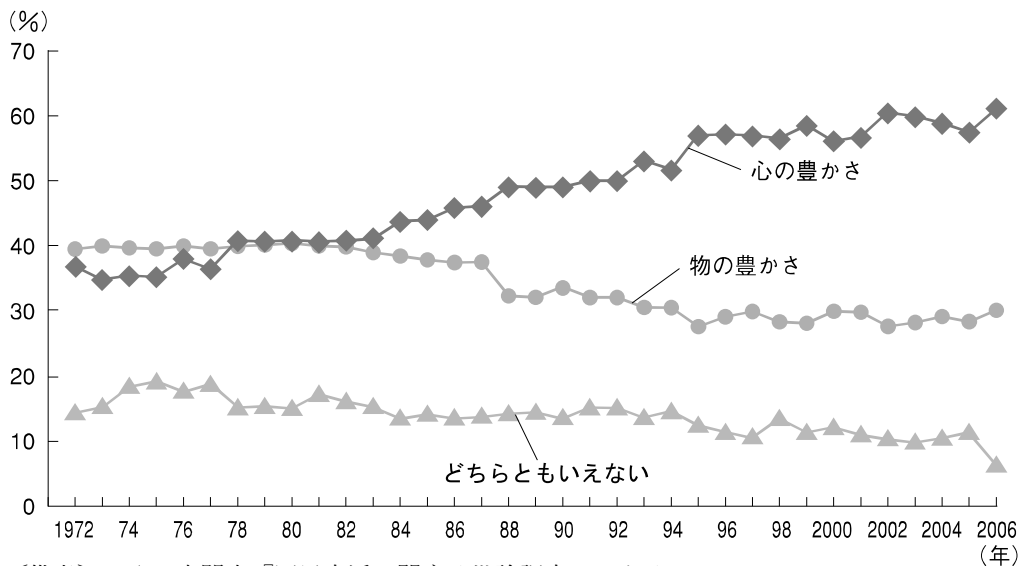
- ① 京都議定書は、二酸化炭素などの温室効果ガスの排出削減を先進国に義務づけている。
- ② 京都議定書は、先進工業国間での温室効果ガスの排出権取引を認めている。
- ③ 京都議定書は、中国などの発展途上国には二酸化炭素の削減義務を課していない。
- ④ 京都議定書は、世界最大の二酸化炭素排出国であるアメリカが参加することで、2005年に発効した。

(3) 下線部⑧に関連して、次の①～④のグラフは、石炭・原油・天然ガス・ウランの主要生産国を示したものである。原油の主要生産国を示したものを、①～④の中から一つ選びなさい。(資料は「世界国勢図会」による)



(4) 下線部㉔に関連して、障害がある人や高齢者などが、一般社会のなかで安全・快適に暮らせるように、身体的、精神的、社会的な障壁を取り除くことをなんとというか、カタカナで答えなさい。

(5) 下線部㉕に関連して、次のグラフについて述べた文として適切なものを、下の①～④の中から一つ選びなさい。



- 〔備考〕 1. 内閣府『国民生活に関する世論調査』による。
 2. 「今後の生活において、物の豊かさに関して、次のような2つの考え方のうち、あなたの考え方に近いのはどちらでしょうか。(ア)物質的にある程度豊かになったので、これからは心の豊かさやゆとりのある生活することに重きをおきたい、(イ)まだまだ物質的な面で生活を豊かにすることに重きをおきたい」との問に対する回答者の割合。
 3. 2の(ア)を「心の豊かさ」とし、2の(イ)を「物の豊かさ」とする。

- ① 今後の生活において、「まだまだ物質的な面で生活を豊かにすることに重きをおきたい」とする回答の割合は、毎年、減少し続けている。
 ② 「心の豊かさ」の割合から「物の豊かさ」の割合を引いたものが、「どちらともいえない」の割合である。
 ③ 「物の豊かさ」の割合は、すべての年で「心の豊かさ」を下回っている。
 ④ 1972年と2006年を比較した時、回答の割合の変化が一番大きいのは「心の豊かさ」である。